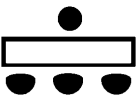





- 搭乘巨型郵輪，猶如身處漂浮城市，其獨特的旅行方式和綜合性體驗吸引不同年齡層的旅客，這類旅遊結合了度假、探險與社交，既能滿足追求放鬆的旅客，也能為冒險愛好者提供獨特體驗，以「一價全包」的方式，享受多元主題之旅遊內容。若依照行政院主計總處公告之「中華民國行業標準分類」，郵輪是屬於下列哪一大類？  
(A) H 大類 (B) N 大類 (C) R 大類 (D) I 大類
- 某國際觀光連鎖飯店為評估新進員工對於觀光餐旅專業用語認知程度，於訓練課程中設計以下測驗題目。依據詞源及專業定義，判斷下列敘述何者錯誤？  
(A) Hospice 原指提供朝聖者或長程旅行者修復體力之驛站  
(B) Hospitality 指親切、熱誠款待之意思  
(C) Hotel 原指大型的城市住宅或公寓  
(D) Host 原意為主人，現泛指青年旅宿
- 2025 年 5 月，印巴爆發衝突，巴基斯坦政府緊急宣布關閉領空 48 小時，導致全球航班大亂，根據桃園機場統計，華航與長榮航空至少有 10 個航班受到波及，出現延誤、返航或改降第三地的狀況。甚至有乘客經歷超過十小時的飛行，最終卻被迫返回出發地。上述事件主要凸顯的旅行業行業特性為何？  
(A) Heterogeneity (B) Perishability  
(C) Rigidity of Supply Components (D) Sensibility
- 2025 年羅馬天主教新教宗「良十四世」(Leo XIV)當選時，約有 4 萬 5 千人聚集在梵蒂岡聖伯多祿廣場，見證這一重要宗教時刻，現場氣氛熱烈。下列觀光活動中，何者最能描述這類前往梵蒂岡參與教宗選舉見證活動的旅遊型態？  
(A) Pilgrimage Tourism (B) Alternative Tourism (C) Volunteer Tourism (D) Industrial Tourism
- 有關「餐飲業」專業名稱術語的解釋，下列何者正確？  
(A) Job Classification：工作分配 (B) Job Description：工作說明書  
(C) Apprentice：行政副主廚 (D) Standard Operation Procedure：標準食譜
- 隨著消費者行為快速變化，飲食喜好趨於多樣，近年出現了一種結合科技與數據的新型餐飲模式—「虛擬餐廳(Virtual Restaurant)」。此模式不設置實體內用空間，專注於線上點餐與外送服務，特別在 COVID-19 疫情期間發展迅速，為餐飲產業帶來新契機。有關此類虛擬餐廳之敘述，下列何者錯誤？  
(A) 可透過數據分析精準的測試市場 (B) 有助於經營者重新規劃成本結構  
(C) 消費者對品牌通常擁有高度忠誠 (D) 外送平台推動市場需求快速成長
- 《米其林指南》依據地方特色飲食差異，在全球不同的國家，給予不同的符號，下列哪一個「符號」是《米其林指南》用來代表臺灣的夜市街頭小吃？  
(A)  (B)  (C)  (D) 
- 「世界旅遊日」(World Tourism Day)象徵著旅遊從單純的商業活動，被提升為一個具有全球影響力的社會、文化與經濟現象。聯合國世界旅遊組織(UNWTO)為了紀念這個具有歷史意義的時刻，將下列哪一日訂定為「世界旅遊日」？  
(A) 3 月 27 號 (B) 4 月 22 號 (C) 9 月 27 號 (D) 10 月 20 號

9. 現今許多飯店與民宿紛紛導入智慧科技，例如透過 AI 語音助理或物聯網(IoT)系統，讓顧客只需一聲令下，即可自動調整客房的燈光、空調、電視頻道等設定。這類能根據顧客個人偏好提供自動化、客製化服務，創造驚喜與額外便利性的服務體驗，在服務產品的五個層次中，屬於哪一個層次？
- (A) 核心產品(Core Product) (B) 基本產品(Basic Product)  
(C) 期望產品(Expected Product) (D) 附加產品(Augmented Product)
10. 臺北的金普頓大安酒店(Kimpton Da An Hotel Taipei)針對與寵物共同入住的旅客，特別制定友善配套措施，下列敘述何者**不符合**寵物友善(Pet Friendly)？
- (A) 寵物進出公共空間需使用牽繩或寵物籠  
(B) 寵物入住房型的床單、毛巾等與其他房型布巾共同清洗  
(C) 免費提供寵物床墊及尿墊  
(D) 不將寵物單獨留在房間裡面
11. 暑假期間，多多和小珠想安排一場深度認識臺灣國家公園之旅，請友人幫忙規劃行程，希望可以欣賞到雙心石滬，以及參觀傳統聚落，例如傳統的閩南建築和洋樓建築。根據上述，下列哪一個行程符合這些需求？
- (A) 陽明山國家公園與墾丁國家公園 (B) 太魯閣國家公園與玉山國家公園  
(C) 東沙環礁國家公園與台江國家公園 (D) 澎湖南方四島國家公園與金門國家公園
12. 中華民國交通部觀光署為推動臺灣觀光產業發展，於 2018 年提出「Taiwan Tourism 2030 台灣觀光政策白皮書」，有關白皮書所提出的論述，下列哪一項**錯誤**？
- (A) 對於國人之出國旅遊不做政策性之規劃，僅以來臺旅客人次設定目標至 2 千萬人次及國人國內旅遊 2.4 億人次  
(B) 「組織法制變革、打造魅力景點、整備主題旅遊、廣拓觀光客源、優化產業環境、推展智慧體驗」為政策之 6 大主軸，以打造臺灣成為亞洲優質友善的旅遊勝地為目標  
(C) 令旅客印象深刻的旅遊經驗以「美味菜餚」、「景點」及「人情味濃厚」居前三名  
(D) 來臺旅客除「越南」呈現正成長，其他各主要客源市場均呈現負成長
13. 臺灣為強化國際觀光推廣，廣設海外辦事處，並透過「The Heart of Asia」等品牌行銷活動，致力提升臺灣的國際能見度。下列哪一個城市設有中華民國交通部觀光署駐外辦事處？
- (A) 曼谷 (B) 杜拜 (C) 雅典 (D) 開普敦
14. 遊客被導遊遊說高價購買膠囊與人參茶。返臺方得知疑似被哄騙推銷，憤而訴諸公論。在觀光系統(Tourism System)中，「導遊人員」屬於系統中的哪一部分？
- (A) 觀光次要部分 (B) 觀光媒體 (C) 觀光客體 (D) 觀光主體
15. 「星空餐廳」晚餐時段一如往常座無虛席，外場 40 個座位皆為滿座，還有顧客陸續在候餐區等待。若至打烊前，餐廳順利接待了 60 位顧客，每位顧客平均消費為 120 元，則本日晚餐期間的「翻檯率」(Turnover Rate)為何？
- (A) 1.5 (B) 2 (C) 2.5 (D) 3
16. 「辦桌」對臺灣人而言，是具有時代意義的一項日常民俗文化，從出生的滿月宴，到長大成人的結婚喜宴，再到生命盡頭的圓滿桌，它結合了臺灣人特有的生命禮俗，是最具臺灣特色的飲食文化，也是親朋好友們聯絡感情、凝聚情感的場合。這種臺灣特有的餐飲類別是屬於下列哪一種服務方式？
- (A) Catering Service (B) Semi-buffet Service (C) Buffet Service (D) Guéridon Service

17. 有關餐旅業之中式餐廳菜餚菜單，依出菜先後排序排列，下列何者正確？  
甲、雞仔豬肚鰲 乙、烤豬肋排 丙、清炒花枝魷魚 丁、百年好合拼盤 戊、八寶甜湯  
(A) 乙丁丙戊甲 (B) 丁乙甲戊丙 (C) 丁丙甲乙戊 (D) 丁丙乙甲戊
18. 從業人員服裝儀容，能帶給客人最好的第一印象，有關餐飲業外場服勤人員的服儀敘述，下列何者最合適？  
(A) 男生需自備白色襪子、花色布鞋 (B) 女生需自備膚黑色鏤空絲襪、花色高跟鞋  
(C) 可以盡量使用濃郁香水掩飾個人身上的體味 (D) 依公司規定穿著制服，並配戴名牌於規定處
19. 餐旅服務人員與顧客在任何時間點所發生的互動，都可能直接影響顧客對服務品質的整體印象，例如櫃檯接待、電話諮詢或帶位等過程，此種關鍵性的互動時刻稱之為何？  
(A) 服務設計(Service Design) (B) 服務接觸(Service Encounter)  
(C) 服務流程(Service Process) (D) 服務標準(Service Standard)
20. 「台灣好行」是中華民國交通部觀光署為推廣觀光所規劃的景點接駁服務，其主要特色與目的為何？  
(A) 提供臺灣各地高鐵與臺鐵車站間的快速直達服務，以減少轉乘時間  
(B) 串聯重要交通節點(如高鐵站、臺鐵站、機場)與主要觀光景點，提供便利的公共運輸服務  
(C) 專為外國觀光客設計，僅提供英語導覽與客製化旅遊行程  
(D) 服務對象僅限於團體旅客，需事先預約且不開放散客搭乘
21. 為打造永續旅遊環境，環境部推動「一次用旅宿用品限制使用對象及實施方式」，這不僅是減塑重要措施，也是邁向綠色生活的契機。有關此項新規定，下列敘述何者錯誤？  
(A) 旅宿業不得提供容量小於 280 毫升的液態盥洗用品(如洗髮乳、潤髮乳、沐浴乳、乳液)  
(B) 營業場所不得陳列個人衛生用品(如梳子、牙刷、牙膏、刮鬍刀、刮鬍泡、浴帽)供消費者自由取用  
(C) SPA、游泳池等非客房設施可提供一次性備品，不受上述限制  
(D) 自 114 年 1 月 1 日起實施，違規業者將可處 1,200 元以上、6,000 元以下罰鍰
22. 旅館中，有關客房床鋪名稱，下列中英文配對何者錯誤？  
(A) Single Bed：單人床 (B) Extra Bed：雙人床  
(C) King Size Bed：國王床 (D) Queen Size Bed：皇后床
23. 根據 Booking.com 公布的《2025 年旅遊趨勢預測》，未來旅遊模式趨向多元與個人化，包括：觀星體驗、養生休閒、永續旅遊、跨世代家庭同遊、男性專屬假期、年長者動感行程、感官友善活動、復古旅行、機場探索，以及 AI 客製化行程。值得一提的是，臺灣旅客對 AI 規劃旅遊的接受度高達 66%，居全球第三。根據上述內容，下列何者不屬於新興旅遊趨勢？  
(A) 旅程從機場開始，機場體驗成為目的地選擇因素  
(B) 二手商店結合文化體驗，兼具環保與經濟效益  
(C) 因氣候變遷影響，日間旅遊需求上升  
(D) 「SKI(Spending Kids' Inheritance)」旅遊流行，意指花掉留給子女的遺產實現夢想旅行
24. 台灣旅遊大賞《一城市一特色》，各縣市不僅擁有特色風景，也可以讓大家看見擁有多樣地理環境的臺灣，在不同季節中孕育出各具特色的地方風情，下列各縣市特色風情配對何者錯誤？  
(A) 新竹縣—司馬庫斯 (B) 臺中市—忘憂森林  
(C) 嘉義市—檜意森活村 (D) 臺東縣—臺灣國際熱氣球嘉年華

25. 現今的電子機票已全面實現無紙化與電子化，使訂票、付款以及辦理登機手續等流程更加便捷高效。根據電子機票上各欄位的說明，判斷下列選項何者正確？
- (A) ALLOW：用於顯示訂票代號，通常由六位英數字組成  
 (B) CLASS：表示機票的訂位狀況  
 (C) FROM/TO：用於顯示機票的有效期限，包含最早及最晚可使用的日期  
 (D) CARRIER：顯示本次航班的航空公司代號，如「CI」、「BR」
26. 暑假期間，不少旅客反應飯店退房須排隊近一小時。為提升效率，許多飯店導入如「自助退房箱」等快速退房服務，旅客若無未結帳項目，只需將房卡投入指定裝置，即可完成退房手續，不僅節省時間，也提升櫃檯作業效率。此項住宿服務的專業術語稱為下列何者？
- (A) Express Check In (B) Express Check Out  
 (C) Airport Shuttle Service (D) Butler Service
27. 2025 台北國際觀光博覽會(TTE)，是年度旅遊盛會，日本知名星野集團旗下的溫泉度假品牌虹夕諾雅 HOSHINOYA 自 2019 年進駐臺灣，此溫泉旅館房租計價方式為「一泊二食」，是屬於下列何種計價方式？
- (A) 百慕達式計價(BP) (B) 美式計價(AP)  
 (C) 修正美式計價(MAP) (D) 歐式計價(EP)
28. 有關餐飲業作業場所之敘述，下列何者**不符合**民國 114 年 06 月 04 日修正的《食品良好衛生規範準則》(GHP)？
- (A) 製備之菜餚，其貯存及供應應維持適當之溫度；室溫下不得存放二小時以上  
 (B) 熟食之熱藏溫度保持在攝氏六十度以上  
 (C) 外燴業者辦理二百人以上餐飲時，於辦理一個月向前向辦理外燴餐飲地點之衛生局(所)報請備查  
 (D) 無充足之符合飲用水水質標準之流動水者，使用完畢即行丟棄之餐具
29. 某夜市商圈販售知名的日式章魚燒小丸子，其中「章魚」及其他食材成本占總成本的 20%，而總材料費為 30 元。若要計算該商品的合理售價，下列何者正確？
- (A) 100 元 (B) 150 元 (C) 200 元 (D) 250 元
30. 近來在臺灣食客間掀起一股風潮，無論是餐飲集團或是單店餐廳，紛紛搶推各地特色魚料理。中國八大菜系中，有關各地方著名「魚料理」之敘述，下列何者正確？
- (A) 剁椒魚頭、砂鍋魚頭屬於閩菜  
 (B) 宋嫂魚羹、松鼠黃魚屬於湘菜  
 (C) 豆瓣鯉魚、酸菜魚屬於川菜  
 (D) 糖醋桂魚、臭鰻魚屬於魯菜
31. 海蒂和家人一同前往泰國度假。早晨，他們在飯店享用自助早餐，飯店提供多種蛋的料理方式。每位家人對蛋的偏好分別為：海蒂喜歡「帶殼水煮蛋」、兒子喜歡「炒蛋」、女兒喜歡「雙面嫩煎蛋」、先生則偏好「太陽蛋」，依上述順序排列，各自喜歡的蛋料理方式，下列何者正確？
- (A) Boiled Egg→Scrambled Eggs→Over Easy→Sunny Side Up  
 (B) Poached Egg→Scrambled Eggs→Over Hard→Sunny Side Up  
 (C) Poached Egg→Omelet→Scrambled Eggs→Sunny Side Up  
 (D) Boiled Egg→Scrambled Eggs→Over Hard→Sunny Side Up

32. 依據《建築物無障礙設施設計規範》，旅館客房數達 16 至 100 間者，至少須設置 1 間無障礙客房；超過 100 間者，每增加 100 間(含不足數)應再增設 1 間。鑑於高齡化、醫療旅遊與無障礙旅遊需求持續成長，旅館業者應積極規劃並提供無障礙房型，以符合法規並承擔社會責任。下列何者為「無障礙客房」之正確專業用語？
- (A) Presidential Suite Room (B) Studio Room  
(C) Barrier-free Guestroom (D) Executive Room
33. 旅館的經營模式眾多，有一種旅館專為開車旅行者設計，每間客房設有獨立的停車空間，旅客入住及使用客房時間彈性，可依使用時數計價，適合現代快節奏的旅遊模式。上述此種經營「Short Stay」的旅館，是指下列何種經營型態的旅館？
- (A) Motel (B) Timeshare Resort Hotel  
(C) B&B (D) Apartment Hotel
34. 花蓮推動環保標章旅館，打造永續綠色旅遊體驗，在全球關注氣候變遷與環境保護的背景下，傳統旅遊模式逐漸轉型，為實現 2050 淨零碳排目標積極推動低碳綠色旅遊，並輔導旅宿業者加入環保旅宿行列，有關「環保標章旅館」之敘述，下列何者**錯誤**？
- (A) 推動綠色旅遊風潮，讓民眾有更多元的綠色選擇，並在旅遊中響應全球淨零行動  
(B) 授予黃金、金級、銀級、銅級，四種不同級別之環保標章  
(C) 由旅宿業者「自願性」申請，依符合程度經第三方驗證及環境部審查後，給予標章等級  
(D) 2025 年獲得金級為煙波大飯店花蓮太魯閣山閣館
35. 小龍假日與好朋友到飯店住宿一晚 6,000 元，由於聊天聊到太晚，導致隔天無法準時退房，一直到「下午 6 點 30 分」，才辦理退房。根據「旅宿業延遲退房收費標準」，退房時若不加計其他館內消費費用及服務費，合計應收取多少房價？
- (A) 8,000 元 (B) 9,000 元  
(C) 12,000 元 (D) 18,000 元
36. 航空公司供應飛機餐，如果乘客有健康或宗教需要，一般可於起飛前 24 小時通知航空公司準備「特殊餐」，或是在訂購機票時預先告知。下列航空餐飲英文代碼中，何項代表「糖尿病患餐」？
- (A) MOML (B) BBML (C) DBML (D) BLML
37. 臺灣鐵路管理局近年積極推動「美學設計」列車，其中一列於 2020 年底正式啓航的觀光列車，以其嶄新的外觀、豪華的車廂設計，並結合五星級飯店的餐飲服務，將搭乘體驗提升至猶如「移動豪華餐廳」的境界。此列觀光列車的名稱為何？
- (A) 鳴日號 (B) 星光號 (C) 臺灣號 (D) 藍皮解憂號
38. 根據中華民國 108 年修正發布「旅行業接待大陸地區人民來臺觀光旅遊團品質注意事項」，下列敘述何者**錯誤**？
- (A) 旅行業應安排導遊或領隊人員隨團服務，並與旅客簽訂書面契約  
(B) 旅行社應提供旅遊行程表，並詳列交通、住宿、餐飲及參觀景點  
(C) 導遊人員每日帶團解說時間不得超過十二小時，以確保服務品質  
(D) 旅行社所使用的遊覽車應定期進行安全檢查，並保存相關維護紀錄

39. 樂齡飯店共有 600 間客房，其中有空房 250 間(含 O.O.O.房)，G.I.T.和 F.I.T.房客共有 385 人，其住宿總收入為\$1,755,000，則該日飯店的「住房率」及「每房平均房價」分別約為何？  
(A) 41.67%；5,014 元 (B) 41.67%；7,020 元 (C) 58.33%；5,014 元 (D) 58.33%；7,020 元
40. 芝芝報名參加大林旅行社主辦之「印尼四日遊行程」，並依規定簽訂《國外旅遊定型化契約》，完成繳費新臺幣 48,000 元。然而，出發前一日接獲旅行社通知，因未能取得機位，導致行程無法成行。依定型化契約範本規定，旅行社應賠償旅客多少金額之違約金？  
(A) 14,400 元 (B) 24,000 元 (C) 48,000 元 (D) 72,000 元
41. 大雄旅行社於端午連假辦理「沖繩四日遊」團體旅遊，一團包含領隊(總共 25 人)；當天出團時共 25 人，但回國時因有 3 位成年團員，留在日本沖繩當地探訪親友，並自願簽妥放棄行程離團切結書，根據財政部於中華民國 114 年 1 月 23 日修訂之「入境旅客攜帶行李物品報驗稅放辦法」，回國時，三位團員幫家人購入免稅菸酒，則能免稅帶入境的自用酒類總計為幾公升？  
(A) 6.5 (B) 5.5 (C) 4.5 (D) 3
42. 臺灣溫泉的歷史可追溯到原住民所發掘的部落溫泉，後經日人引進泡湯文化，幾經興衰，臺灣現有 128 處溫泉區，泉質各有特色，被譽為「世界溫泉博物館」。有關各縣市與特色溫泉之配對，下列何者正確？  
(A) 屏東—不老溫泉 (B) 南投—東埔溫泉 (C) 高雄—四重溪溫泉 (D) 臺東—安通溫泉

▲閱讀下文，回答第 43-46 題

越南富國島近年成為熱門旅遊景點。臺南黃小姐與親友共同參加「屏安旅行社」出團的 5 天 4 夜富國島行程。出發前，旅行社與團員簽署了《國外旅遊定型化契約》，其中明訂旅遊費用包含旅行業依法應辦理的保險，保障旅客權益。

行程期間，不幸發生團員溺水意外事故，導致部分團員受傷，旅行社表示將依保險內容申請理賠。

此外，旅行團在第二天晚餐享用海鮮自助餐後，有 8 名團員出現上吐下瀉等症狀，疑似食物中毒就醫，並提出醫療費用理賠申請。

43. 依據文中所述，旅行社與團員簽署了《國外旅遊定型化契約》，其中明訂旅遊費用包含旅行業依法應辦理的保險，是指下列何種保險？  
(A) 責任保險&履約保證保險 (B) 責任保險&旅遊平安險  
(C) 履約保證保險&旅遊不便險 (D) 履約保證保險&旅遊平安險
44. 依據定型化契約中所含的旅遊費用與保險規定，上述因溺水造成團員受傷，保險公司理賠應屬下列哪一項？  
(A) 履約保證保險 (B) 旅遊不便險 (C) 旅遊平安險 (D) 責任保險
45. 疑似食物中毒掛急診就醫的 8 名團員，在出發前均購足相關旅遊保險，此醫療費用若由保險理賠給付，應屬下列哪一類保險？  
(A) 旅遊平安險 (B) 旅遊不便險 (C) 履約保證保險 (D) 責任保險
46. 臺南黃小姐與親友在旅行過程中，因班機因故延誤超過四小時，導致團員錯過原定的飯店入住時間，並額外花費了數千元購買衣物等日用品。則團員所投保的何種保險，最可能針對此類非人身安全的財務損失提供理賠？  
(A) 履約保證保險 (B) 責任保險 (C) 旅遊平安險 (D) 旅遊不便險

## ▲閱讀下文，回答第 47-48 題

2024 年發生相關米類食物中毒事件，食用「炒粿條」而引發的食物中毒事件，讓許多民眾紛紛害怕吃粿條。依據食藥署統計每年細菌性食物中毒資料，發現 5~10 月其實是臺灣食物中毒的高峰期，常見原因包含腸炎弧菌、沙門氏桿菌、病原性大腸桿菌、金黃色葡萄球菌、仙人掌桿菌等。其實，食物中毒無所不在，若未留意飲食衛生安全原則，就可能引發食物中毒，通常病程會因體質而異。此次寶林粿條事件爆發之前，其實臺灣不曾發生過邦克列酸食物中毒，但在中國、印尼、非洲都曾經發生過邦克列酸中毒事件。

不管在臺灣還是國際上，微生物導致的食品中毒事件層出不窮，這不只造成經濟損失，也危害到人體安全，更嚴重的甚至會導致死亡。在近年來臺灣發生的重大食安事件，臺灣食物中毒案件以微生物菌汙染為主要原因。亞熱帶氣候的臺灣，因為天氣溫暖潮濕，容易造成食品微生物孳生。5~9 月是臺灣氣溫較高的季節，更增加了食物中毒的發生率。經衛福部食藥署的統計，2023 年就有高達 6,935 人通報食物中毒，創下 23 年來新高。

47. 張家在家中自行製作肉燥罐頭，因密封不完全且未充分加熱，導致細菌、病毒繁殖並產生神經毒素。食用後 3 人出現視力模糊、肌肉無力及呼吸困難的症狀，緊急施打抗毒素後倖存，根據以上敘述，是屬於下列何種病菌所引起的食物中毒？

- (A) 沙門氏菌                      (B) 腸炎弧菌                      (C) 仙人掌桿菌                      (D) 肉毒桿菌

48. 在百合婚宴餐廳中提供炒飯，因米飯煮熟後在室溫冷卻長達 6 小時，細菌大量繁殖。賓客食用後，30 多人上吐下瀉，患者有嘔吐、腹瀉的情況，根據以上敘述，是屬於下列何種病菌所引起的食物中毒？

- (A) 沙門氏菌                      (B) 腸炎弧菌                      (C) 仙人掌桿菌                      (D) 肉毒桿菌

## ▲閱讀下文，回答第 49-50 題

美食與觀光之間的關係密不可分，兩者形成一種互惠共生的循環：美食既是觀光發展的核心吸引力，也是地方文化的重要載體；而觀光產業則為美食提供傳播與創新的舞台，進一步強化其經濟與文化價值；「美食帶動觀光；觀光影響地方經濟」。

影視作品中(如《孤獨的美食家》)、社交媒體(Instagram 美食打卡)與《米其林指南》等評鑑，將特定美食與目的地形象綁定。例如《哈利波特》中的奶油啤酒帶動英國倫敦觀光，臺灣的珍珠奶茶透過國際報導吸引美食獵人。而臺灣各縣市更是發展出不同的文化與地方特產，這些味覺的記憶，更具有強烈的情感渲染力，提供味覺享受，更創造獨特的旅遊記憶，成為重遊或口碑傳播的誘因。

49. 下列何者不是臺灣「岡山」的三寶？

- (A) 羊肉                      (B) 羊羹                      (C) 蜂蜜                      (D) 豆瓣醬

50. 臺灣地方特產中，下列何者配對正確？

- (A) 鹿港一方塊酥                      (B) 臺東一棺材板                      (C) 旗山一米粉                      (D) 車城一綠豆蒜

【以下空白】